



Çelësi i Testit për konkursin rajonal në gjeografi për klasën e IX (të nëntë).

Viti shkollor 2023/2024

1. Plotësoni fjalitë. (çdo përgjigje e saktë ka 1 pikë)

Pika më veriore e Azisë është Kepi **Çeljuskin** ( $77^{\circ}$  gjvgj) në Gadishullin Tajmyr dhe pika më jugore është **Kepi Buru** ( $1^{\circ}16'$  gjvgj) në Gadishullin e Malajziz. Pika më perëndimore ndodhet në **Kepin Baba** ( $26^{\circ}3'$  gjlgj) në gadishullin e Azisë së Vogël, pika më lindore është **Kepi i Dezhnevës** ( $169^{\circ}50'$  gjpgj).

2. Në hartë shënoni termat e dhëna me numrin përkatës.

(çdo përgjigje e saktë ka 1 pikë)



1. Ishujt Novosibirsk	5. Gadishulli Indian
2. Gadishulli Indokinez	6. Gadishulli Arabik
3. Gadishulli Kamçatka	7. Ishujt japonezë
4. Gadishulli Tajmyr	8. Gadishulli i Çukotit

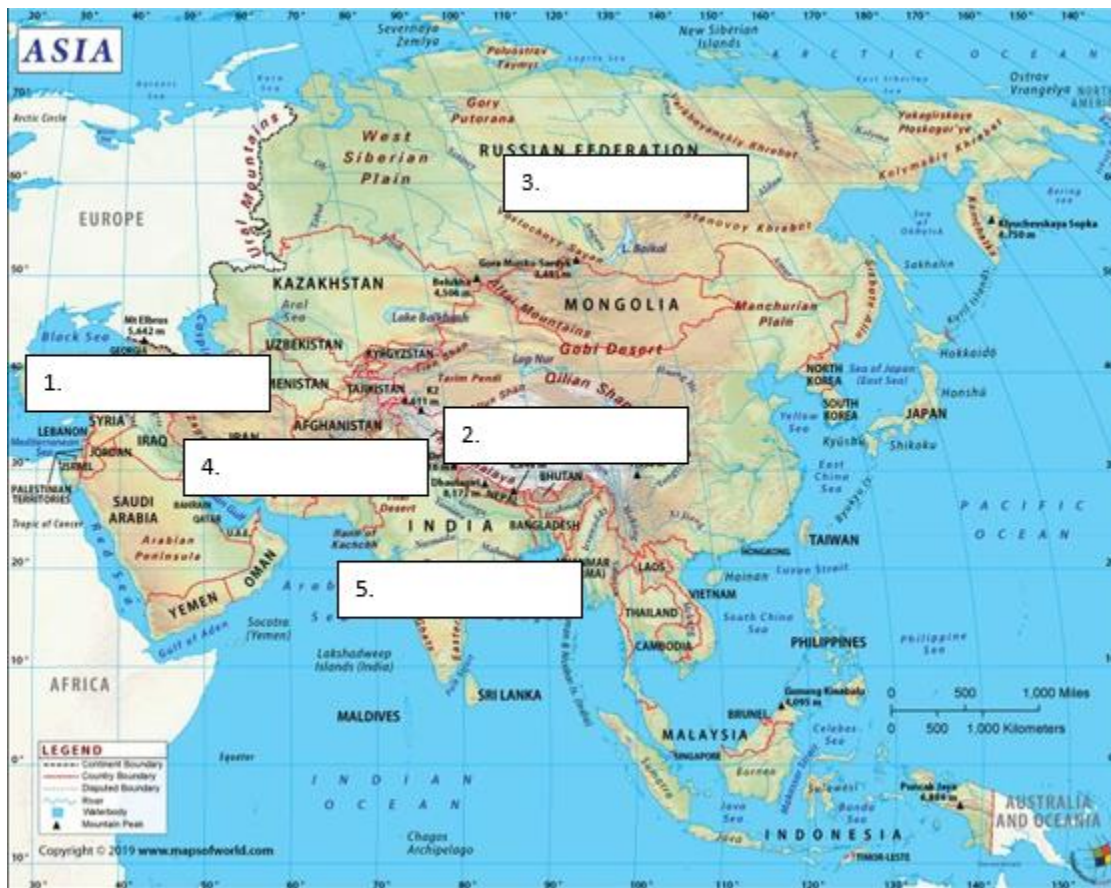
3. Plotësoni fjalinë. (çdo përgjigje e saktë ka 1 pikë)

Vargmalet veriore të Maleve të Rinj të Azisë përbëhet nga: **Malet Pontike, Kaukazi, Elbrusi dhe Hindu Kush.**

4. Shkruani emrat e Malësisë në Azi në vendin e duhur.

(çdo përgjigje e saktë ka 1 pikë)

1. Anadoli; 2. Tibeti; 3. Rrafshnaltat e Sibirit të Mesëm; 4. Rrafshnaltat iraniane; 5. Dekani



5. Plotësoni fjalinë. (çdo përgjigje e saktë ka 1 pikë)

Shkretëtirat u përhapën në pjesët qendrore dhe jugore të Azisë. Në pjesët qendrore shtrihen: **Kizillikum, Karakum, Takla Makan dhe Gobi.** Në pjesët jugore bien në sy shkretëtira: **Nefudi, Shkretëtira e Madhe e Kripës dhe Taari.**

6. Përgjigjuni pyetjeve. (çdo përgjigje e saktë ka 1 pikë)

1. Temperatura më e ulët në Azi është matur në **Verhojansk** (- 67,8 °C).
2. Temperatura më e lartë në Azi është matur në **Tirat Zvi** (+ 54°C).
3. Vendi më me shi në Azi është qyteti **Çarapunxhi**
4. Musonët në pjesën e ngrohtë të vitit fryjnë nga **oqeanet drejt Azisë Jugore dhe Juglindore**
5. Tajfunet (ciklonet tropikale) ndodhin më shpesh gjatë **ndryshimit të stinës së verës dhe dimrit,**

7. Plotësoni fjalinë. (çdo përgjigje e saktë ka 1 pikë)

Në brezin e butë të nxehtësisë së kontinentit aziatik janë të përfaqësuara disa lloje klimatike-vegjetative: **tip kontinental i lagësht, tip kontinental-stepë, tip shkretëtinor dhe tip subtropikal.**

8. Shënoni lumenjtë e dhënë me numrin e duhur në hartën e zbrazët. (çdo përgjigje e saktë ka 1 pikë)

1. Amu Darja; 2. Ini; 3. Obi; 4. Hoango; 5. Amuri; 6. Eufirati; 7. Mekongu; 8. Eniseji; 9. Gangu; 10. Lena



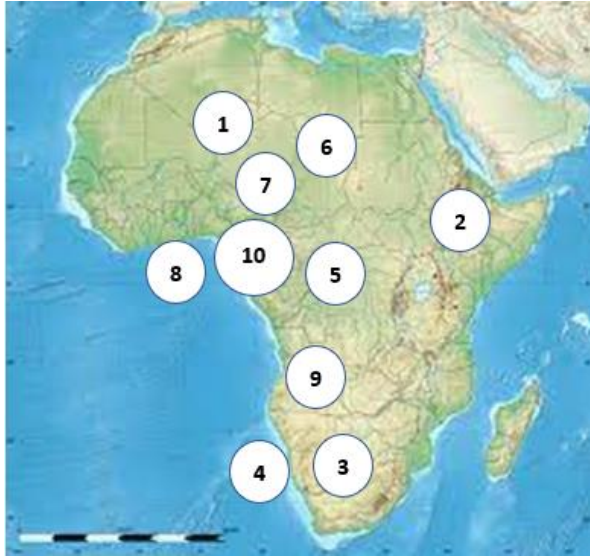
9. Cilat janë kryeqytetet e tre vendeve më të mëdha në rajonin e Azisë Lindore?

(çdo përgjigje e saktë ka 1 pikë)

**Pekingu, Tokio dhe Seuli**

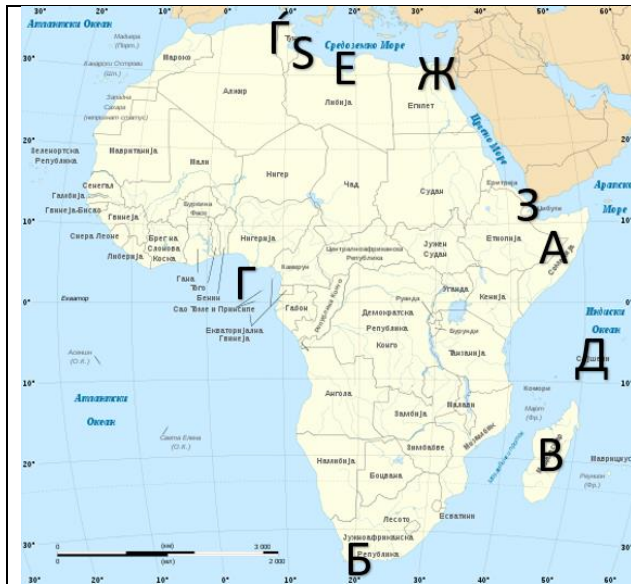
10. Shënoni ku janë termat përkatës në hartën e relievit me numrin përkatës.

(Çdo përgjigje ka 1 një pikë)



1. Mali Ahagar; 2. Malet Etiopiane; 3. Shkretëtira Kallahari; 4. Shkretëtira Namibiane; 5. Pellgu i Kongos; 6. Sahara; 7. Ultësirat përreth liqenit Çad; 8. Ultësira pranë Gjirit të Guinesë; 9. Rrafshnaltat e Angolës; 10. Malet e Kamerunit

11. Shkruani termat përkatëse të bregdetit të Afrikës të dhëna në hartë. (Çdo përgjigje ka 1 një pikë)



- A: Gadishulli i Somalisë
- B: Kepi i Shpresës së Mirë
- C: Madagaskari
- D: Gjiri i Guinesë
- D: Ishujt Sejshele
- F: Gadishulli i Tunisit
- E: Gjiri i Sidrës
- Z: Kanali i Suezit
- Z: Bab Eil Mandeb
- S: Gjiri i Gabës

12. Shkruani termat hidrografikë në vendin e duhur në hartën bosh.

(Liqeni Rudolph; Liqeni Nyasa; Liqeni Viktoria; Liqeni Tanganjika; Liqeni Çad; Liqeni Albert; Lumi Senegal; Lumi Oranje; Lumi Juba; Lumi Niger)

(Çdo përgjigje ka 1 një pikë)



13. Përgjigjuni pyetjeve të mëposhtme. (Çdo përgjigje ka 1 një pikë)

a) Cilat dy shkretëtira të mëdha ndodhen në Gadishullin Arabik?

Përgjigje: **Nefudi i Madh dhe Rub el Hali**

b) Nga cilët dy lumenj formohet lumi Shat el Arab?

Përgjigje: **Tigri dhe Eufрати**

c) Në cilat pjesë të Azisë është gazi natyror më i përqendruar, si një burim i rëndësishëm natyror?

Përgjigje: **Pjesët veriore të Siberisë dhe Rrafshina e Siberisë Perëndimore**

d) Për cilat zona të Azisë është karakteristik grupi i popujve malaj?

Përgjigje: **Azia Lindore dhe Juglindore**

e) Shkruani vendin më të madh sipas zonës për secilën nga njësitë e dhëna rajonale të Azisë.

**Azia Lindore - Kinë; Azia Juglindore - Indonezi;**

14. Shkruani emrat e rrymave detare të paraqitura në hartë.

(Çdo përgjigje ka 1 një pikë)

**A. Rryma e ftohtë Kanarie**

**B. Rryma e ngrohtë e Guinesë**

15. Përgjigjuni pyetjeve të mëposhtme. (Çdo përgjigje ka 1 një pikë)

1. Si është klima në pellgun e lumit Kongo dhe në Guinenë e Epërme?

**Klimë ekuatoriale e theksuar ose klimë ekuatoriale**

2. Në cilat zona klimatike në Afrikë ndodhin shkretëtirat?

**Zonat klimatike subtropikale**

3. Cilit pellg në Afrikë i përket lumi Shari?

**Pellgu i Oqeanit Atlantik**

4. Nga cili liqen rrjedh Nili i Bardhë? **Liqeni Viktoria**

5. Cili rajon bimor ndodhet midis Pyjeve Ekuatoriale dhe Stepave?

**Savanet**

6. Cila është rritja natyrore në dekadën e fundit në Afrikë? **25 %**.

7. Sa është dendësia mesatare e popullsisë në Afrikë? **46 banorë për 1 km<sup>2</sup>**

8. Cili është shteti më i madh për nga popullsia në Afrikën e Veriut? **Egjipti**