



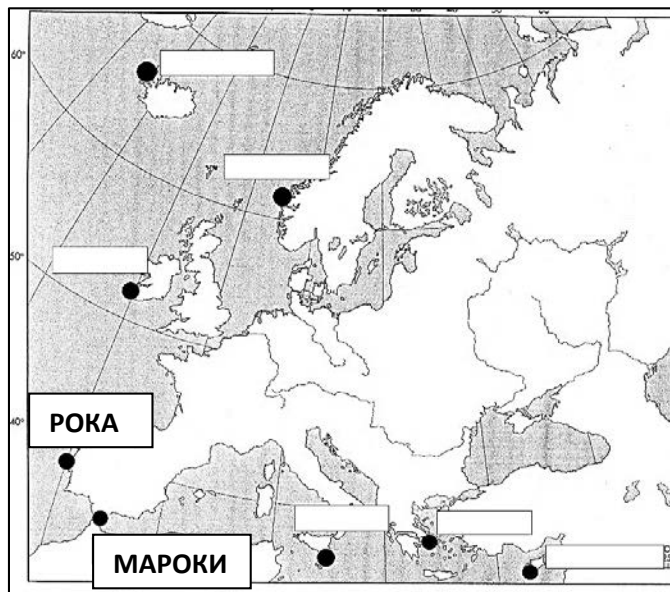
КЛУЧ ЗА РЕГИОНАЛЕН НАТПРЕВАР ПО ГЕОГРАФИЈА

ЗА VIII ОДДЕЛЕНИЕ, Учебна 2022/2023 година

Вкупно 100 бодови.

поени	место

1. Од понудените локации на картата одбери две, кои се однесуваат на најзападната и најјужната точка на континентот Европа и напиши го нивното име во соодветното поле. **2x1= 2**




2. Замисли си дека пловиш со брод на релација Бургас – Лондон. Дополни ги локациите кои мора да ги поминеш на твојата пловидба. **8x1=8**

Започнуваш од пристаништето Бургас на брегот на Црното Море, пловиш кон југ и поминуваш низ протокот Босфор на кој се наоѓа градот Истанбул, потоа навлегуваш во Мраморно Море и поминуваш низ протокот Дарданели. Потоа навлегуваш во Егејско Море, поминуваш меѓу најјужниот полуостровот во Грција Пелопонез и најголемиот грчки остров Крит и навлегуваш во Средоземно Море. Пловиш кон запад, поминуваш низ Гибралтарскиот Проток и сега го менуваш правецот кон север пловејќи низ Атлантскиот Океан. Поминуваш северно од Пиринејскиот Полуостров, потоа поминуваш низ каналот Ла Манш и Доверскиот Проток, навлегуваш во естуарот на реката Темза и пристигнуваш во Лондон.

3. Разгледај ја картата на Европа и запиши ги бројчињата на дадените релјефни форми во празните полиња на картата. **Внимавај, на картата се прикажани повеќе полиња од бараните. Секој поим запиши го само на едно место на картата!** **8x1=8**

1-естуар 2-Јиланд 3-Мезета 4-Етна
5-Дарданели 6-делта 7-Алеч 8-Нордкап



4. На линијата напишете ја најголемата река која поминува низ дадената низина. **6x1=6**

Прикасписка Низина Волга

Панонска Низина Дунав

Андалузија Гвадалкивир

Тракиска Низина Марица

Ломбардија По

Арагоонија Ебро

5. Низ кои две држави поминува реката Струма? **2x1=2**
Бугарија и Грција

6. Кои три држави на Балкански Полуостров немаат излез на море? **3x1=3**

Србија, Македонија и Косово.

7. Кои три народи во Босна и Херцеговина се најбројни:

3x1=3

Бошњаци, Срби и Хрвати.

8. Кои острови во Атлантскиот Океан им припаѓаат на Португалија и Шпанија? **3x1=3**

Мадеира, Зеленортски Острови и Канарски Острови.

9. Заокружи два главни градови од регионот на Јужна Европа, кои се наоѓаат на најниска надморска височина? **2x1=2**

Неапол, Мадрид, Драч, **Атина**, Сплит, **Лисабон**, Загреб

10. Кои три држави во регионот на Јужна Европа НЕ се републики по уредувањето? **3x1=3**

Шпанија, Андора и Ватикан.

11. Подреди ги просторите и растителните и животинските видови во соодветната климатско-вегетациска област. Влашка Низина, Нова Земја, Макии, Бретања, Тајга, Сардинија, Тундра. **7x1=7**

Субполарна **Нова Земја, Тундра.**

Атлантска **Бретања.**

Континентална **Влашка Низина, Тајга.**

Суптропска **Макии, Сардинија.**

12. Подреди ги планините и низините/котлините во соодветната држава каде што се протегаат. **6x1=6**

Рила, Пинд, Коритник, Метохија, Целска, Похорје.

Грција **Пинд**

Бугарија **Рила**

Косово **Метохија**

Словенија **Целска, Похорје.**

Србија **Коритник**

13. Кај кои две држави од регионот на Јужна Европа националните паркови зафаќаат најголема површина со дури 9,3% односно 7,9% од вкупната површина на државите? **2x1=2**

Косово и Црна Гора

14. Наброј три реки во Босна и Херцеговина, кои припаѓаат на Црноморскиот слив: **3x1=3**

Сава, Врбас, Босна, Уна, Дрина.

15. Подреди ги туристичките места во државата на која припаѓаат. **10x0,5=5**

Крка, Евбеја, Блед, Тиват, Златибор, Гарда, Копер, Фиренца, Опатија, Парга.

Грција **Евбеја, Парга.**

Италија **Гарда, Фиренца.**

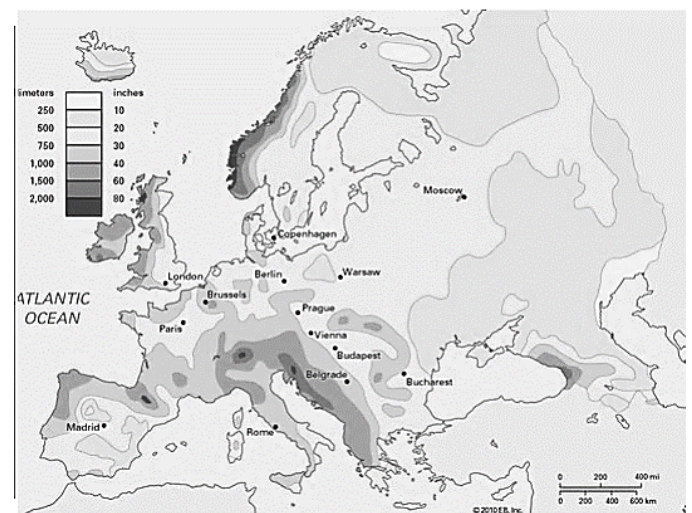
Црна Гора **Тиват**

Хрватска **Крка, Опатија.**

Словенија **Блед, Копер.**

Србија **Златибор.**

16. Разгледај ја картата со количеството на врнежи во Европа и заокружи три простори кои примаат мали количества на врнежи? **3x1=3**



- а) Јиланд **б) Арагонија** в) Динара **г) Крим**
д) Ирска **ф) Кола** е) Бретања ж) Пиринеи

17. Доколку сакаш да пловеш од Касписко Езеро до Црно Море низ кои две реки и едно море мора да поминеш?

3x1=3

Волга, Дон и Азовско Море.

18. После даденото бројче напиши го името на соодветната река означена на картата. 6x1=6



1 Дон 2 По 3 Гарона/Жиронда

4 Рајна 5 Висла 6 Гвадалкивир

19. После секоја наведена констатација заокружи Т (точно) или Н (неточно). 8x1=8

Европското население има висок природен прираст.	Т	<u>Н</u>
Еден од најгусто населените простори во Европа се протега околу реката По.	<u>Т</u>	Н
Еден од најретко населените простори во Европа е областа Сар.	Т	<u>Н</u>
Баскијците се припадници на романската група на народи.	Т	<u>Н</u>
Финскиот јазик припаѓа на германската група на јазици.	Т	<u>Н</u>
Каталонскиот јазик се говори во Шпанија.	<u>Т</u>	Н
Протестантите најмногу се застапени во јужните делови на Европа.	Т	<u>Н</u>
Словенечкиот јазик припаѓа на јужната словенска група.	<u>Т</u>	Н

20. Подреди ги државите од Јужна Европа според површината, од најголема, до најмала. 6x1=6

Италија, Србија, Шпанија, Словенија, Андора, Ватикан.

Шпанија, Италија, Србија, Словенија, Андора, Ватикан.

21. Распреди ги дадените географски поими во државата каде припаѓаат. 12x0,5=6

Шумадија, Истра, Тузла, Ебро, Војводина, Пловдив, Коринтски канал, Гердапска Клисура, Голо Брдо, Крањска Гора, Неретва, Ломбардија.

Србија Шумадија, Војводина, Гердапска клисура

Бугарија Пловдив

Грција Коринтски канал

Хрватска Истра

Словенија Крањска Гора

Босна и Херцеговина Тузла, Неретва

Италија Ломбардија

Шпанија Ебро

Косово Голо Брдо

22. На картата испиши ги имињата на соседите на Хрватска? 5x1=5

